

Nom : _____

Activité 3.9

Les modes de transport et les formes d'énergie connexes






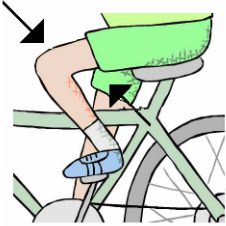


Quelles forme et source d'énergie utilisent les modes de transport suivants?

Mode de transport	Forme d'énergie	Source d'énergie
 Bicyclette		
 Voilier		
 Train à vapeur		
 Automobile		
 Charette		
 Canot		
 Avion		

Nom: _____

Activité 3.10 La chaîne énergétique

Découpez chacune des cases et placer les illustrations dans le bon ordre pour expliquer le transfert d'énergie qui permet de dire qu'un vélo marche à l'énergie solaire.

 A	 B	 C	 D
 E	 F	 G	 H