



C4-Seq. **Q5** Séance **2**

n° **1** Objet de l'activité :

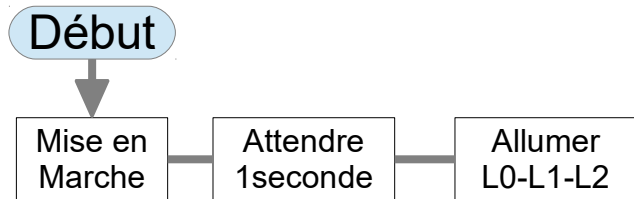
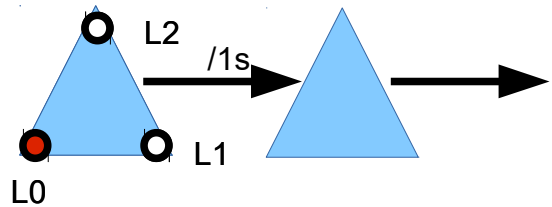
**Comment décrire
le déroulement
d'une animation ?**

ACTIVITE-1 / A partir du système FLASHPROG

1°)- Décrire du déroulement de l'animation des LEDs ?


(selon le mode attribué entre **1-Texte** / **2-Dessin des triangles** / **3-Schéma de blocs** ou encore **4-Tableau d'états logiques 0/1**)

- Mise en Marche du module
- L0 L1 et L2 éteintes /1seconde
- Allumer L0 L1 ET L2 /1s.



Étape	L0	L1	L2	Durée
Début	Mise En Marche			
	0	0	0	/ 1s
0	1			/ 1s
	0	0	0	/ 1s
1				

2°)- Designer pour l'îlot, le gestionnaire de matériel, le secrétaire et un rapporteur qui présentera le travail du groupe au tableau ?



3°)- Et trouver le point commun à tous pour en déduire une première modifications et plus encore ?

? ? ? ? ? ? ? ? ? ?

Mode 4 – En mode Tableau logique

Par une succession de lignes d'états de chaque del disposées par colonnes dans lesquelles on donne les instructions simplifiées sous forme de 0 ou 1...

Étape	L0	L1	L2	Durée
Début	Mise En Marche			
	0	0	0	/ 1s
0	1			/ 1s
	0	0	0	/ 1s
1				
2				
3				
FIN	attente de Mise à l'Arrêt			

